

Сурагчийн нэр:

Эхэлсэн: он сар өдөр



1 метр (1 м) нь уртын стандарт нэгжүүдийн нэг юм.

$$1 \text{ м} = 100 \text{ см}$$

$$100 \text{ см} = 1 \text{ м}$$

$$2 \text{ м } 67 \text{ см} = 267 \text{ см}$$

2 м

67 см

$$(2 \times 100) \text{ см} + 67 \text{ см}$$

$$206 \text{ см} = 2 \text{ м } 6 \text{ см}$$

200 см

6 см

$$(200 \div 100) \text{ см} + 6 \text{ см}$$

1 Сантиметрээр илэрхийлээрэй. Жишээ: $3 \text{ м} = (3 \times 100) \text{ см} = 300 \text{ см}$

а. $1 \text{ м} =$ _____

г. $10 \text{ м} =$ _____

б. $6 \text{ м} =$ _____

д. $50 \text{ м} =$ _____

в. $8 \text{ м} =$ _____

е. $100 \text{ м} =$ _____

2 Метрээр илэрхийлээрэй. Жишээ: $300 \text{ см} = (300 \div 100) \text{ м} = 3 \text{ м}$

а. $100 \text{ см} =$ _____

г. $500 \text{ см} =$ _____

б. $700 \text{ см} =$ _____

д. $400 \text{ см} =$ _____

в. $800 \text{ см} =$ _____

е. $1000 \text{ см} =$ _____

3 Сантиметрээр илэрхийлээрэй.

Жишээ: $13 \text{ м } 2 \text{ см} = 13 \text{ м} + 2 \text{ см} = (13 \times 100) \text{ см} + 2 \text{ см} = 1302 \text{ см}$

а. $1 \text{ м } 50 \text{ см} =$ _____

б. $3 \text{ м } 45 \text{ см} =$ _____

в. $6 \text{ м } 29 \text{ см} =$ _____

г. $18 \text{ м } 74 \text{ см} =$ _____

4 Метр ба сантиметрээр илэрхийлээрэй.

Жишээ: $302 \text{ см} = 300 \text{ см} + 2 \text{ см} = (300 \div 100) \text{ м} + 2 \text{ см} = 3 \text{ м } 2 \text{ см}$

а. $120 \text{ см} =$ _____

б. $457 \text{ см} =$ _____

в. $7281 \text{ см} =$ _____

г. $6045 \text{ см} =$ _____

5 Тоог зохион бичээрэй. а)-д см-ээр, б), в)-д м ба см-ээр илэрхийлээрэй.

а. м см = _____

б. см = _____

в. см = _____

Дууссан:сарөдөр



Даалгавар	1	2	3	4	5
Өөрийн үнэлгээ	<input type="radio"/>	<input type="radio"/>	<input type="radio"/>	<input type="radio"/>	<input type="radio"/>

Сурагчийн нэр:

Эхэлсэн: он сар өдөр

1 м = 100 см
100 см = 1 м

$6 \text{ м } 54 \text{ см} + 2 \text{ м } 13 \text{ см} =$
 $(6 \text{ м} + 2 \text{ м}) + (54 \text{ см} + 13 \text{ см})$
 $8 \text{ м} + 67 \text{ см} = 8 \text{ м } 67 \text{ см}$

$6 \text{ м } 54 \text{ см} - 2 \text{ м } 13 \text{ см} =$
 $(6 \text{ м} - 2 \text{ м}) + (54 \text{ см} - 13 \text{ см})$
 $4 \text{ м} + 41 \text{ см} = 4 \text{ м } 41 \text{ см}$

1-ээс 6 дугаар даалгаварт үйлдлийг гүйцэтгээрэй.

1 а. $260 + 310 =$ _____ в. $3125 + 1434 =$ _____ д. $1697 - 516 =$ _____

б. $1260 + 307 =$ _____ г. $758 - 425 =$ _____ е. $4859 - 4634 =$ _____

2 а. $40 \text{ см} + 60 \text{ см} =$ _____ см г. $230 \text{ см} - 120 \text{ см} =$ _____ см

б. $125 \text{ см} + 43 \text{ см} =$ _____ см д. $583 \text{ см} - 341 \text{ см} =$ _____ см

в. $354 \text{ см} + 231 \text{ см} =$ _____ см е. $748 \text{ см} - 425 \text{ см} =$ _____ см

3 а. $15 \text{ м} + 43 \text{ м} =$ _____ м в. $78 \text{ м} - 34 \text{ м} =$ _____ м

б. $251 \text{ м} + 327 \text{ м} =$ _____ м г. $297 \text{ м} - 153 \text{ м} =$ _____ м

4 а. $1 \text{ м } 20 \text{ см} + 76 \text{ см} =$ ___ м ___ см в. $4 \text{ м } 75 \text{ см} - 62 \text{ см} =$ ___ м ___ см

б. $3 \text{ м } 47 \text{ см} + 21 \text{ см} =$ ___ м ___ см г. $7 \text{ м } 64 \text{ см} - 32 \text{ см} =$ ___ м ___ см

5 Жишээ: $4 \text{ м } 36 \text{ см} + 3 \text{ м } 21 \text{ см} = 4 \text{ м} + 3 \text{ м} + 36 \text{ см} + 21 \text{ см} = 7 \text{ м } 57 \text{ см}$

а. $2 \text{ м } 50 \text{ см} + 1 \text{ м } 30 \text{ см} =$ _____

б. $7 \text{ м } 54 \text{ см} + 2 \text{ м } 13 \text{ см} =$ _____

в. $4 \text{ м } 46 \text{ см} + 3 \text{ м } 34 \text{ см} =$ _____

6 Жишээ: $4 \text{ м } 36 \text{ см} - 3 \text{ м } 21 \text{ см} = (4 \text{ м} - 3 \text{ м}) + (36 \text{ см} - 21 \text{ см}) = 1 \text{ м } 15 \text{ см}$

а. $2 \text{ м } 50 \text{ см} - 1 \text{ м } 30 \text{ см} =$ _____

б. $7 \text{ м } 54 \text{ см} - 2 \text{ м } 13 \text{ см} =$ _____

в. $4 \text{ м } 46 \text{ см} - 3 \text{ м } 34 \text{ см} =$ _____

7 Уртын хэмжээг ижил нэгжээр илэрхийлэн үйлдлийг гүйцэтгээрэй.

а. $512 \text{ см} + 1 \text{ м } 37 \text{ см} =$ _____

б. $8 \text{ м } 59 \text{ см} - 316 \text{ см} =$ _____

8 Загварт тохирох нийлбэрийг бичээд, үйлдлийг гүйцэтгээрэй.

<input type="text"/>	<input type="text"/>	см	+	<input type="text"/>	<input type="text"/>	см	=													
----------------------	----------------------	----	---	----------------------	----------------------	----	---	--	--	--	--	--	--	--	--	--	--	--	--	--

Дууссан:сарөдөр



Даалгавар	1	2	3	4	5	6	7	8
Өөрийн үнэлгээ	😊	😊	😊	😊	😊	😊	😊	😊

Сурагчийн нэр:

Эхэлсэн: он сар өдөр

Нэмэх	Хасгах
$\begin{array}{r} \overset{1}{4} \overset{1}{7} 8 \text{ CM} \\ + 2 3 5 \text{ CM} \\ \hline 7 1 3 \text{ CM} \end{array}$	$\begin{array}{r} \overset{3}{4} \overset{11}{2} \overset{14}{4} \text{ CM} \\ - 2 3 5 \text{ CM} \\ \hline 1 8 9 \text{ CM} \end{array}$
$\begin{array}{r} \overset{1}{4} \text{ M } 7 8 \text{ CM} \\ + 2 \text{ M } 3 5 \text{ CM} \\ \hline 7 \text{ M } 1 3 \text{ CM} \end{array}$	$\begin{array}{r} \overset{3}{4} \text{ M } \overset{11}{2} \overset{14}{4} \text{ CM} \\ - 2 \text{ M } 3 5 \text{ CM} \\ \hline 1 \text{ M } 8 9 \text{ CM} \end{array}$

1-ээс 6 дугаар даалгаварт үйлдлийг гүйцэтгээрэй.

1 а. $\begin{array}{r} 465 \\ + 123 \\ \hline \end{array}$ б. $\begin{array}{r} 591 \\ + 283 \\ \hline \end{array}$ в. $\begin{array}{r} 765 \\ - 439 \\ \hline \end{array}$ г. $\begin{array}{r} 526 \\ - 374 \\ \hline \end{array}$

2 а. $\begin{array}{r} 465 \text{ CM} \\ + 123 \text{ CM} \\ \hline \end{array}$ б. $\begin{array}{r} 591 \text{ CM} \\ + 283 \text{ CM} \\ \hline \end{array}$ в. $\begin{array}{r} 452 \text{ CM} \\ + 238 \text{ CM} \\ \hline \end{array}$ г. $\begin{array}{r} 524 \text{ CM} \\ + 391 \text{ CM} \\ \hline \end{array}$

3 а. $\begin{array}{r} 465 \text{ CM} \\ - 123 \text{ CM} \\ \hline \end{array}$ б. $\begin{array}{r} 591 \text{ CM} \\ - 283 \text{ CM} \\ \hline \end{array}$ в. $\begin{array}{r} 452 \text{ CM} \\ - 238 \text{ CM} \\ \hline \end{array}$ г. $\begin{array}{r} 524 \text{ CM} \\ - 391 \text{ CM} \\ \hline \end{array}$

4 а. $\begin{array}{r} 4 \text{ M } 6 5 \text{ CM} \\ + 1 \text{ M } 2 3 \text{ CM} \\ \hline \text{ M } \text{ CM} \end{array}$ б. $\begin{array}{r} 5 \text{ M } 9 1 \text{ CM} \\ + 2 \text{ M } 8 3 \text{ CM} \\ \hline \text{ M } \text{ CM} \end{array}$ в. $\begin{array}{r} 5 \text{ M } 3 5 \text{ CM} \\ + 3 \text{ M } 4 5 \text{ CM} \\ \hline \text{ M } \text{ CM} \end{array}$ г. $\begin{array}{r} 7 \text{ M } 5 2 \text{ CM} \\ + 1 \text{ M } 8 4 \text{ CM} \\ \hline \text{ M } \text{ CM} \end{array}$

5 а. $\begin{array}{r} 4 \text{ M } 6 5 \text{ CM} \\ - 1 \text{ M } 2 3 \text{ CM} \\ \hline \text{ M } \text{ CM} \end{array}$ б. $\begin{array}{r} 5 \text{ M } 9 1 \text{ CM} \\ - 2 \text{ M } 8 3 \text{ CM} \\ \hline \text{ M } \text{ CM} \end{array}$ в. $\begin{array}{r} 5 \text{ M } 1 8 \text{ CM} \\ - 2 \text{ M } 7 4 \text{ CM} \\ \hline \text{ M } \text{ CM} \end{array}$ г. $\begin{array}{r} 8 \text{ M } 0 3 \text{ CM} \\ - 6 \text{ M } 5 3 \text{ CM} \\ \hline \text{ M } \text{ CM} \end{array}$

6 а. $\begin{array}{r} 8 \text{ M } 3 7 \text{ CM} \\ - 4 \text{ M } 5 0 \text{ CM} \\ \hline \text{ M } \text{ CM} \end{array}$ б. $\begin{array}{r} 9 \text{ M } 3 5 \text{ CM} \\ - 1 \text{ M } 7 2 \text{ CM} \\ \hline \text{ M } \text{ CM} \end{array}$ в. $\begin{array}{r} 7 \text{ M } 8 2 \text{ CM} \\ - 3 \text{ M } 0 4 \text{ CM} \\ \hline \text{ M } \text{ CM} \end{array}$ г. $\begin{array}{r} 8 \text{ M } 6 0 \text{ CM} \\ - 5 \text{ M } 5 1 \text{ CM} \\ \hline \text{ M } \text{ CM} \end{array}$

7 Загварт тохирох тоог бичиж, үйлдлийг гүйцэтгээрэй.

а. $\begin{array}{r} + \quad \quad \quad \text{CM} \\ \quad \quad \quad \text{CM} \\ \hline \quad \quad \quad \text{CM} \end{array}$ б. $\begin{array}{r} + \quad \text{M} \quad \quad \text{CM} \\ \quad \quad \text{M} \quad \quad \text{CM} \\ \hline \quad \quad \text{M} \quad \quad \text{CM} \end{array}$ в. $\begin{array}{r} - \quad \quad \quad \text{CM} \\ \quad \quad \quad \text{CM} \\ \hline \quad \quad \quad \text{CM} \end{array}$ г. $\begin{array}{r} - \quad \quad \text{M} \quad \quad \text{CM} \\ \quad \quad \text{M} \quad \quad \text{CM} \\ \hline \quad \quad \text{M} \quad \quad \text{CM} \end{array}$

8 Багана тус бүр дэх нийлбэр нь 1 м байхаар хоосон нүдэнд нөхөж бичээрэй.

1 м	90 см	40 см		20 см	50 см			69 см
	10 см		70 см			25 см	55 см	

1 м = 100 см


Дууссан:сарөдөр



Даалгавар	1	2	3	4	5	6	7	8
Өөрийн үнэлгээ	😊	😊	😊	😊	😊	😊	😊	😊

Сурагчийн нэр:

Эхэлсэн: он сар өдөр

	Тоогоор үржүүлэх		Тоонд хуваах	 $476 \div 7 = 68 \text{ (м)}$ $420 + 56$
	 $\begin{array}{r} 11 \\ * 478 \text{ м} \\ \hline 956 \text{ м} \end{array}$	 $\begin{array}{r} 11 \\ * 4 \text{ м } 78 \text{ см} \\ \hline 9 \text{ м } 56 \text{ см} \end{array}$	$476 \text{ м} \div 7$ $476 \div 7 = 68 \text{ (м)}$ $420 + 56$	

1-ээс 3 дугаар даалгаварт үйлдлийг гүйцэтгээрэй.

1 а.
 $\begin{array}{r} * 53 \text{ м} \\ \hline \end{array}$

б.
 $\begin{array}{r} * 384 \text{ см} \\ \hline \end{array}$

в.
 $\begin{array}{r} * 3 \text{ м } 84 \text{ см} \\ \hline \end{array}$

г.
 $\begin{array}{r} * 6 \text{ м } 79 \text{ см} \\ \hline \end{array}$

2 а.
 $\begin{array}{r} * 47 \text{ м} \\ \hline \end{array}$

б.
 $\begin{array}{r} * 706 \text{ см} \\ \hline \end{array}$

в.
 $\begin{array}{r} * 8 \text{ м } 92 \text{ см} \\ \hline \end{array}$

г.
 $\begin{array}{r} * 2 \text{ м } 67 \text{ см} \\ \hline \end{array}$

3 а. $95 \text{ м} \div 5$

$\begin{array}{r} 955 \\ - 500 \\ \hline 450 \\ - 450 \\ \hline 0 \end{array}$

Шалгая
 $\begin{array}{r} * 195 \\ \hline 95 \text{ (м)} \end{array}$

б. $392 \text{ см} \div 8$

$\begin{array}{r} 3928 \\ - 3200 \\ \hline 720 \\ - 720 \\ \hline 0 \end{array}$

Шалгая

в. $513 \text{ см} \div 9$

$\begin{array}{r} 5139 \\ - 4500 \\ \hline 630 \\ - 630 \\ \hline 0 \end{array}$

Шалгая

4 Уртын хэмжээг бага нэгж уруу шилжүүлж бодоорой. Бодолтоо шалгаарай.

а. $4 \text{ м } 6 \text{ см} \div 7$

$4 \text{ м } 6 \text{ см} = 406 \text{ см}$

 $\begin{array}{r} 4067 \\ - 3500 \\ \hline 560 \\ - 560 \\ \hline 0 \end{array}$

Шалгая
 $\begin{array}{r} * 587 \\ \hline \end{array}$

б. $4 \text{ м } 38 \text{ см} \div 6$

$4 \text{ м } 38 \text{ см} = \text{_____}$

Шалгая

в. $2 \text{ м } 56 \text{ см} \div 4$

$\text{_____} = \text{_____}$

Шалгая


Дууссан:сарөдөр



Даалгавар	1	2	3	4
Өөрийн үнэлгээ				

Сурагчийн нэр:

Эхэлсэн: он сар өдөр



1 км = 1000 м
1000 м = 1 км

2 км 617 м = 2617 м
2 км 617 м
(2 × 1000) м + 617 м

2607 м = 2 км 607 м
2000 м 607 м
(2000 ÷ 1000) км + 607 м

1) Метрээр илэрхийлээрэй. Жишээ: 3 км = (3 × 1000) м = 3000 м

а. 1 км = _____ г. 4 км = _____

б. 5 км = _____ д. 9 км = _____

в. 8 км = _____ е. 10 км = _____

2) Километрээр илэрхийлээрэй. Жишээ: 3000 м = (3000 ÷ 1000) км = 3 км

а. 1000 м = _____ г. 5000 м = _____

б. 6000 м = _____ д. 4000 м = _____

в. 10000 м = _____ е. 8000 м = _____

3) Метрээр илэрхийлээрэй.

Жишээ: 3 км 2 м = 3 км + 2 м = (3 × 1000) м + 2 м = 3002 м

а. 5 км 160 м = _____

б. 3 км 145 м = _____

в. 6 км 71 м = _____

г. 7 км 4 м = _____

4) Километр ба метрээр илэрхийлээрэй.

Жишээ: 3002 м = 3000 м + 2 м = (3000 ÷ 1000) км + 2 м = 3 км 2 м

а. 2360 м = _____

б. 4571 м = _____


в. 2093 м = _____

г. 7001 м = _____

5) Тоог зохион бичээрэй. а)-д м-ээр, б), в)-д км ба м-ээр илэрхийлээрэй.

а. км м = _____б. м = _____в. м = _____


Дууссан:сарөдөр



Даалгавар	1	2	3	4	5
Өөрийн үнэлгээ	<input type="radio"/>	<input type="radio"/>	<input type="radio"/>	<input type="radio"/>	<input type="radio"/>

Сурагчийн нэр:

Эхэлсэн: он сар өдөр



$6 \text{ км } 254 \text{ м} + 2 \text{ км } 314 \text{ м} =$
 $(6 \text{ км} + 2 \text{ км}) + (254 \text{ м} + 314 \text{ м})$
 $8 \text{ км} + 568 \text{ м} = 8 \text{ км } 568 \text{ м}$

$6 \text{ км } 254 \text{ м} - 2 \text{ км } 134 \text{ м} =$
 $(6 \text{ км} - 2 \text{ км}) + (254 \text{ м} - 134 \text{ м})$
 $4 \text{ км} + 120 \text{ м} = 4 \text{ км } 120 \text{ м}$

1 км = 1000 м
1000 м = 1 км

1-ээс 6 дугаар даалгаварт үйлдлийг гүйцэтгээрэй.

- 1 а. $320 + 540 =$ _____ в. $1047 + 1831 =$ _____ д. $3876 - 542 =$ _____
 б. $2650 + 327 =$ _____ г. $947 - 831 =$ _____ е. $2938 - 2716 =$ _____

- 2 а. $530 \text{ м} + 260 \text{ м} =$ _____ м г. $530 \text{ м} - 320 \text{ м} =$ _____ м
 б. $7285 \text{ м} + 413 \text{ м} =$ _____ м д. $7685 \text{ м} - 413 \text{ м} =$ _____ м
 в. $2354 \text{ м} + 1642 \text{ м} =$ _____ м е. $2954 \text{ м} - 1642 \text{ м} =$ _____ м

- 3 а. $47 \text{ км} + 31 \text{ км} =$ _____ км в. $47 \text{ км} - 31 \text{ км} =$ _____ км
 б. $367 \text{ км} + 541 \text{ км} =$ _____ км г. $493 \text{ км} - 362 \text{ км} =$ _____ км

- 4 а. $1 \text{ км } 40 \text{ м} + 251 \text{ м} =$ _____ км _____ м в. $5 \text{ км } 589 \text{ м} - 276 \text{ м} =$ _____ км _____ м
 б. $2 \text{ км } 135 \text{ м} + 312 \text{ м} =$ _____ км _____ м г. $8 \text{ км } 657 \text{ м} - 347 \text{ м} =$ _____ км _____ м

5 Жишээ: $4 \text{ км } 436 \text{ м} + 3 \text{ км } 21 \text{ м} = 4 \text{ км} + 3 \text{ км} + 436 \text{ м} + 21 \text{ м} = 7 \text{ км } 457 \text{ м}$

- а. $3 \text{ км } 620 \text{ м} + 2 \text{ км } 270 \text{ м} =$ _____
 б. $6 \text{ км } 524 \text{ м} + 1 \text{ км } 375 \text{ м} =$ _____
 в. $4 \text{ км } 316 \text{ м} + 3 \text{ км } 582 \text{ м} =$ _____

6 Жишээ: $4 \text{ км } 436 \text{ м} - 3 \text{ км } 21 \text{ м} = (4 \text{ км} - 3 \text{ км}) + (436 \text{ м} - 21 \text{ м}) = 1 \text{ км } 415 \text{ м}$

- а. $6 \text{ км } 750 \text{ м} - 2 \text{ км } 310 \text{ м} =$ _____
 б. $7 \text{ км } 946 \text{ м} - 4 \text{ км } 521 \text{ м} =$ _____
 в. $8 \text{ км } 586 \text{ м} - 5 \text{ км } 372 \text{ м} =$ _____

7 Уртын хэмжээг ижил нэгжээр илэрхийлэн үйлдлийг гүйцэтгээрэй.

- а. $3512 \text{ м} + 1 \text{ км } 274 \text{ м} =$ _____
 б. $6 \text{ км } 598 \text{ м} - 2316 \text{ м} =$ _____

8 Загварт тохирох нийлбэрийг бичээд, үйлдлийг гүйцэтгээрэй.

	<i>км</i>				<i>м</i>	+		<i>км</i>				<i>м</i>	=							

Дууссан:сарөдөр



Даалгавар	1	2	3	4	5	6	7	8
Өөрийн үнэлгээ	😊	😊	😊	😊	😊	😊	😊	😊

Сурагчийн нэр:

Эхэлсэн: он сар өдөр

Нэмэх	Хасгах
$\begin{array}{r} 1 \quad 1 \quad 1 \\ 4784 \text{ м} \\ + 2359 \text{ м} \\ \hline 7143 \text{ м} \end{array}$	$\begin{array}{r} 3 \quad 11 \quad 7 \quad 14 \\ 4784 \text{ м} \\ - 2359 \text{ м} \\ \hline 1825 \text{ м} \end{array}$
$\begin{array}{r} 1 \quad 1 \quad 1 \\ 4 \text{ км} 784 \text{ м} \\ + 2 \text{ км} 359 \text{ м} \\ \hline 7 \text{ км} 143 \text{ м} \end{array}$	$\begin{array}{r} 3 \quad 11 \quad 7 \quad 14 \\ 4 \text{ км} 784 \text{ м} \\ - 2 \text{ км} 359 \text{ м} \\ \hline 1 \text{ км} 825 \text{ м} \end{array}$

1-ээс 6 дугаар даалгаварт үйлдлийг гүйцэтгээрэй.

1 а.
$$\begin{array}{r} 6405 \\ + 2987 \\ \hline \end{array}$$
 б.
$$\begin{array}{r} 6515 \\ - 2407 \\ \hline \end{array}$$
 в.
$$\begin{array}{r} 7562 \\ - 4845 \\ \hline \end{array}$$

2 а.
$$\begin{array}{r} 3800 \text{ м} \\ + 2400 \text{ м} \\ \hline \end{array}$$
 б.
$$\begin{array}{r} 5750 \text{ м} \\ + 3150 \text{ м} \\ \hline \end{array}$$
 в.
$$\begin{array}{r} 7535 \text{ м} \\ + 1846 \text{ м} \\ \hline \end{array}$$

3 а.
$$\begin{array}{r} 4700 \text{ м} \\ - 1900 \text{ м} \\ \hline \end{array}$$
 б.
$$\begin{array}{r} 6250 \text{ м} \\ - 4080 \text{ м} \\ \hline \end{array}$$
 в.
$$\begin{array}{r} 9324 \text{ м} \\ - 3776 \text{ м} \\ \hline \end{array}$$

4 а.
$$\begin{array}{r} 2 \text{ км} 400 \text{ м} \\ + 4 \text{ км} 700 \text{ м} \\ \hline \end{array}$$
 б.
$$\begin{array}{r} 5 \text{ км} 750 \text{ м} \\ + 3 \text{ км} 150 \text{ м} \\ \hline \end{array}$$
 в.
$$\begin{array}{r} 7 \text{ км} 526 \text{ м} \\ + 1 \text{ км} 845 \text{ м} \\ \hline \end{array}$$

5 а.
$$\begin{array}{r} 3 \text{ км} 400 \text{ м} \\ - 1 \text{ км} 700 \text{ м} \\ \hline \end{array}$$
 б.
$$\begin{array}{r} 5 \text{ км} 250 \text{ м} \\ - 1 \text{ км} 350 \text{ м} \\ \hline \end{array}$$
 в.
$$\begin{array}{r} 7 \text{ км} 562 \text{ м} \\ - 4 \text{ км} 845 \text{ м} \\ \hline \end{array}$$

6 а.
$$\begin{array}{r} 6 \text{ км} 471 \text{ м} \\ - 2 \text{ км} 153 \text{ м} \\ \hline \end{array}$$
 б.
$$\begin{array}{r} 8 \text{ км} 517 \text{ м} \\ - 4 \text{ км} 235 \text{ м} \\ \hline \end{array}$$
 в.
$$\begin{array}{r} 9 \text{ км} 174 \text{ м} \\ - 5 \text{ км} 628 \text{ м} \\ \hline \end{array}$$

7 Загварт тохирох тоог бичиж, үйлдлийг гүйцэтгээрэй.

а.
$$\begin{array}{r} \text{ } \\ + \text{ км} \text{ } \text{ м} \\ \hline \end{array}$$
 б.
$$\begin{array}{r} \text{ } \\ - \text{ км} \text{ } \text{ м} \\ \hline \end{array}$$
 в.
$$\begin{array}{r} \text{ } \\ - \text{ км} \text{ } \text{ м} \\ \hline \end{array}$$

8 Багана тус бүр дэх нийлбэр нь 1 км байхаар хоосон нүдэнд нөхөж бичээрэй.

1 км	890 м	450 м		960 м	210 м		720 м
	110 м		670 м			530 м	380 м

1 км = 1000 м

Дууссан:сарөдөр



Даалгавар	1	2	3	4	5	6	7	8
Өөрийн үнэлгээ	😊	😊	😊	😊	😊	😊	😊	😊

Сурагчийн нэр:

Эхэлсэн: он сар өдөр

Тоогоор үржүүлэх

$$\begin{array}{r} 1\ 1\ 1 \\ * 4768\text{ м} \\ \hline 9536\text{ м} \end{array}$$

$$\begin{array}{r} 1\ 1\ 1 \\ * 4\text{ км} 768\text{ м} \\ \hline 9\text{ км} 536\text{ м} \end{array}$$

Тоонд хуваах

$476\text{ м} \div 7$

$476 \div 7 = 68\text{ (м)}$

$420 + 56$

$$\begin{array}{r} 4767 \\ - 4200 \\ \hline 567 \\ - 560 \\ \hline 0 \end{array}$$

1-ээс 3 дугаар даалгаварт үйлдлийг гүйцэтгээрэй.

1 а. $\begin{array}{r} * 86\text{ м} \\ \hline \end{array}$ б. $\begin{array}{r} * 2169\text{ м} \\ \hline \end{array}$ в. $\begin{array}{r} * 2\text{ км} 169\text{ м} \\ \hline \end{array}$ г. $\begin{array}{r} * 1\text{ км} 584\text{ м} \\ \hline \end{array}$

2 а. $\begin{array}{r} * 958\text{ км} \\ \hline \end{array}$ б. $\begin{array}{r} * 1286\text{ м} \\ \hline \end{array}$ в. $\begin{array}{r} * 1\text{ км} 974\text{ м} \\ \hline \end{array}$ г. $\begin{array}{r} * 3\text{ км} 298\text{ м} \\ \hline \end{array}$

3 а. $768\text{ м} \div 4$ б. $549\text{ км} \div 9$ в. $3416\text{ м} \div 8$

$$\begin{array}{r} 7684 \\ - 4000 \\ \hline 368 \\ - 360 \\ \hline 8 \\ - 8 \\ \hline 0 \end{array}$$

$$\begin{array}{r} 100 \\ + 90 \\ \hline 190 \end{array}$$

$$\begin{array}{r} 192\text{ (м)} \\ - 8 \\ \hline 0 \end{array}$$

4 Уртын хэмжээг бага нэгж уруу шилжүүлж бодоод, шалгаарай.

а. $4\text{ км} 635\text{ м} \div 5$
 $4\text{ км} 635\text{ м} = 4635\text{ м}$

б. $3\text{ км} 912\text{ м} \div 6$
 $3\text{ км} 912\text{ м} = \quad$

в. $4\text{ км} 256\text{ м} \div 7$
 \quad

$$\begin{array}{r} 46355 \\ - 45000 \\ \hline 1355 \\ - 1300 \\ \hline 55 \\ - 55 \\ \hline 0 \end{array}$$

$$\begin{array}{r} 927 \\ * 5 \\ \hline \end{array}$$

$$\begin{array}{r} 927 \\ * 5 \\ \hline \end{array}$$

Дууссан:сарөдөр

Даалгавар	1	2	3	4
Өөрийн үнэлгээ	😊	😊	😊	😊